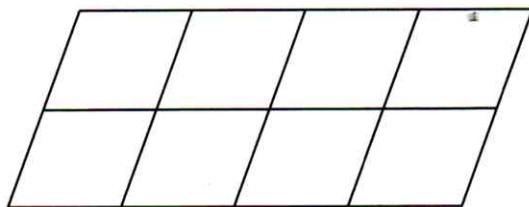
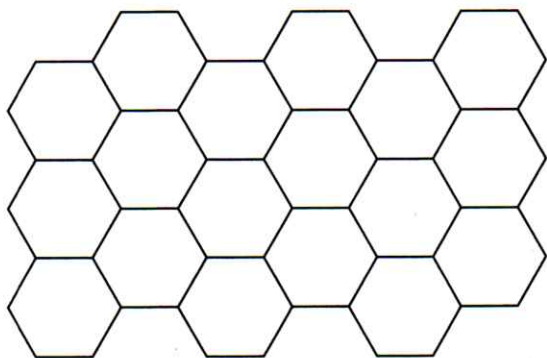
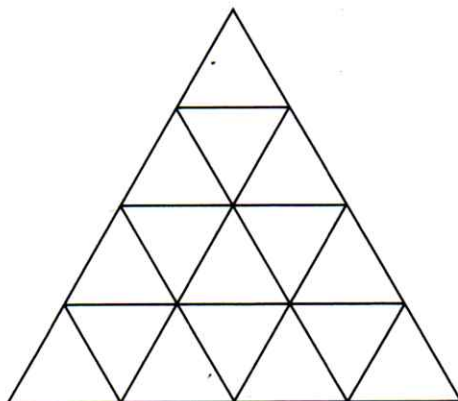



## PŘEMÝŠLÍME

Vendulka s Matějem řeší úkoly zadané ve školním časopise:

■ Rozděl obrázek na poloviny tak, že obě části musí mít stejný obsah, ale nemusí mít stejný tvar. Najdi pokaždé aspoň dvě řešení. Každé řešení vyznač jinou barvou.



▲ Vyznač v trojúhelníkové síti 5 různých útvarů, které jde rozdělit na polovinu podle čar sítě a které mají obvod 12 cm, 15 cm, 18 cm. Pozor, 2 nebo 3 útvary mají stejný obvod.

