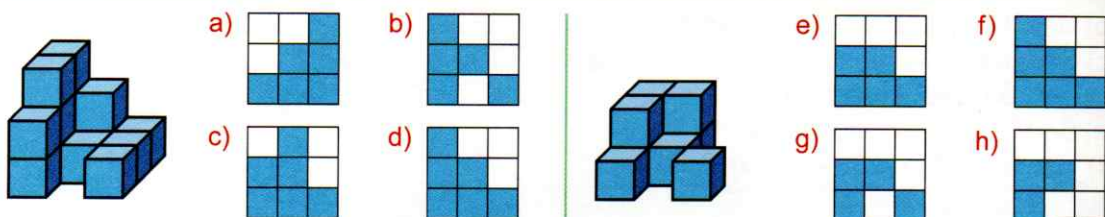
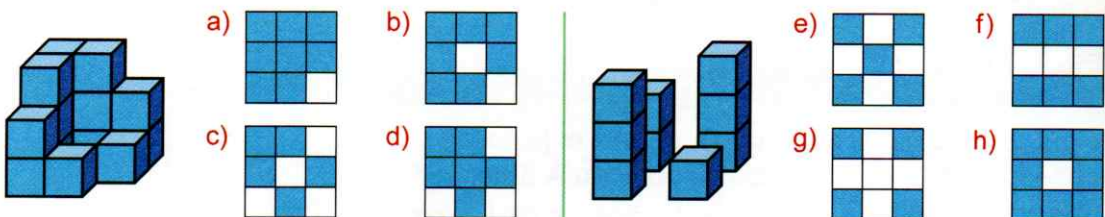


# PROSTOROVÁ GEOMETRIE

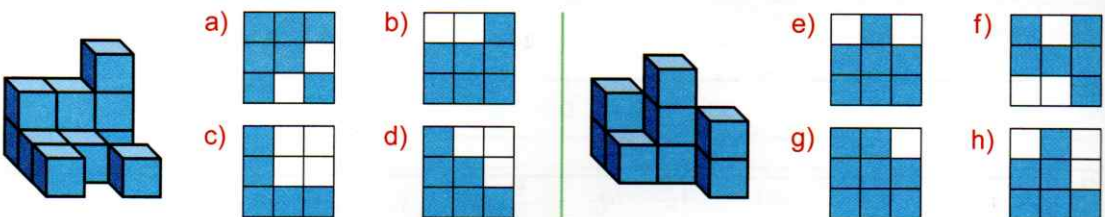
**1** Rozhodněte, který z následujících nákresů odpovídá pohledu na stavbu krychlí zepředu.



**2** Rozhodněte, který z následujících nákresů odpovídá pohledu na stavbu krychlí shora.



**3** Rozhodněte, který z následujících nákresů odpovídá pohledu na stavbu krychlí zleva.



**4** Řekněte, která z kostek mohla vzniknout složením ze čtvercové sítě.

