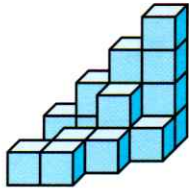


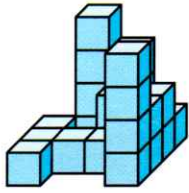
1 Do tabulek doplňte počty krychlí v daných směrech.



pohled zepředu

pohled shora

pohled zprava

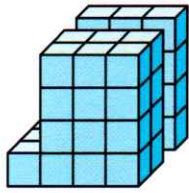


pohled zepředu

pohled shora

pohled zprava

2 Do tabulek doplňte počty krychlí v daných směrech (využijte již vyplněné tabulky).

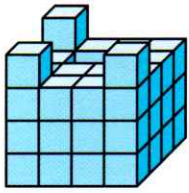


pohled zepředu

pohled shora

0	4	4	4
1	0	3	0
1	4	4	4
1	4	4	4

pohled zprava



pohled zepředu

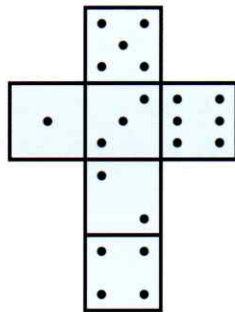
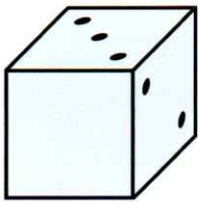
2	0	0	1
3	3	3	4
3	3	4	4
3	4	4	4

pohled shora

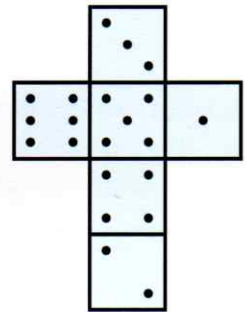

pohled zprava

3 Dokreslete tečky na stěnu kostky, která vznikla složením ze znázorněné sítě.

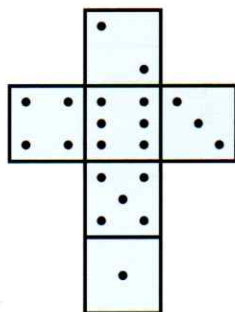
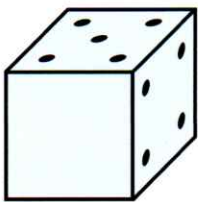
a)



b)



c)



d)

